

①

$$\begin{array}{r}
 382\star \\
 + 1\Delta 62 \\
 \hline
 \star 936 \\
 81\star\Delta \\
 \hline
 19680
 \end{array}$$

Complète l'addition.  
Chaque signe correspond  
toujours au même  
chiffre.

$\star =$   
 $\Delta =$

②

Trouve les nombres  
11-20.  
Directions  $\leftarrow$  et  $\rightarrow$ .  
Les lettres qui  
restent te donnent  
rien.



③

quatre  
 neuf  
 deux  
 onze  
 + quatre  
 six  
 un  
 ?  
 -----  
 quarante

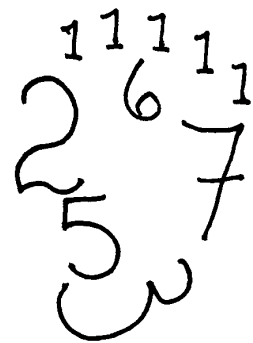

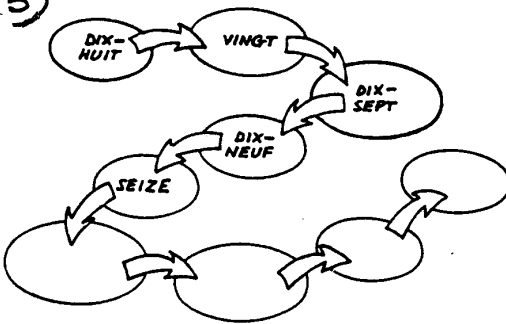
QUATORZE Z N I U Q T R E I Z E T P E S X I D O U Z E E Z I E S

④

Totalise les visages :

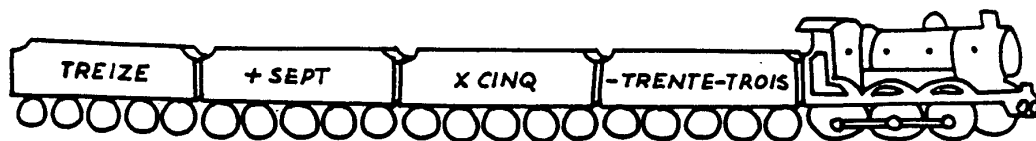


⑤



⑥

QUEL EST LE NUMÉRO DE LA LOCOMOTIVE ?



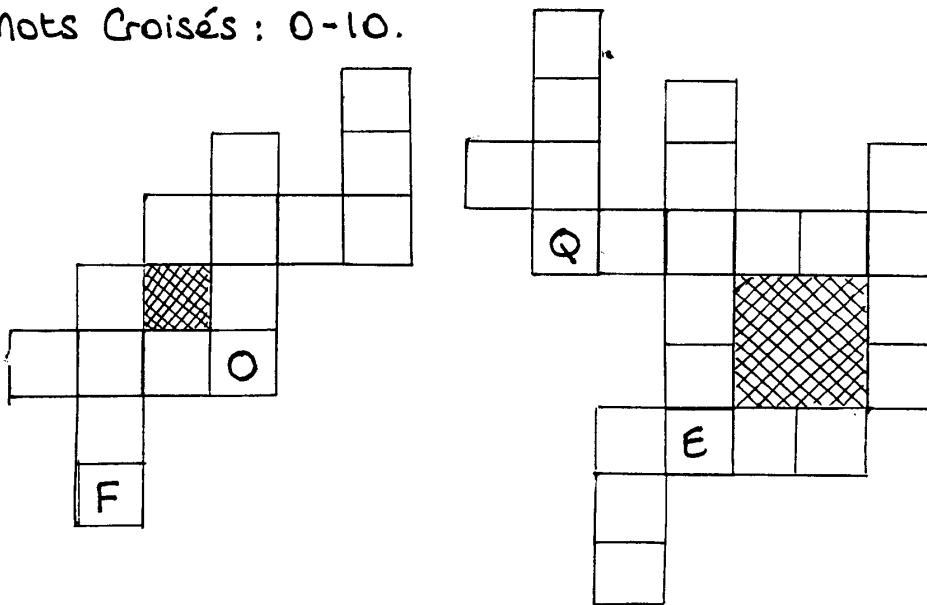
①

C	D	X	Y	V	S	E	I	Z	E	P	Q	R	V
J	E	T	R	E	I	Z	E	T	A	N	K	A	I
T	T	R	H	L	X	E	N	E	U	F	E	S	N
N	I	E	L	U	C	A	C	A	S	H	A	O	G
R	U	N	D	O	U	Z	E	R	Y	B	Q	I	T
R	H	T	O	Q	W	N	N	J	D	P	U	X	U
N	E	E	N	U	T	R	T	E	V	O	A	A	R
G	W	I	E	A	N	W	D	I	S	E	T	N	M
A	C	N	T	R	O	I	S	I	P	I	O	T	A
N	I	E	B	A	A	D	E	U	X	L	R	E	D
W	N	O	N	Z	E	P	N	T	E	Z	R	R	
Y	Q	U	A	T	R	E	T	M	C	D	E	O	W
E	L	L	A	E	B	C	D	Q	U	I	N	Z	E

Trouve ces chiffres dans la grille:

- 1 11 20
- 2 12 30
- 3 13 40
- 4 14 50
- 5 15 60
- 6 16 100
- 7
- 8
- 9
- 10

② Mots Croisés : 0-10.



③ + PLUS ÷ DIVISÉ PAR X MULTIPLIÉ PAR — MOINS

RÉPONDZ AUX QUESTIONS

1. NEUF + SIX, ÇA FAIT COMBIEN?
2. VINGT PLUS TRENTE, ÇA FAIT COMBIEN?
3. TREIZE PLUS DIX-NEUF, ÇA FAIT COMBIEN?
4. DOUZE MULTIPLIÉ PAR DEUX, ÇA FAIT COMBIEN?
5. SEIZE DIVISÉ PAR QUATRE, ÇA FAIT COMBIEN?

④ Complète la grille. Chaque colonne doit égaler 34.

3	13	10	8
12			15
5			2
14	4	7	9